

DEPARTAMENT DE CIÈNCIES SOCIALS, GEOGRAFIA I HISTÒRIA.  
RECUPERACIÓ dels pendents de 1r ESO .

**La recuperació de l'àrea de Ciències Socials de 1r d'ESO durant el curs 2011-12 té dues parts:**

**1. Realitzar el següent treball obligatori. Lliurament 20 de gener de 2012.**

**2. Una exposició-explicació-argumentació del treball oralment davant el professor.**

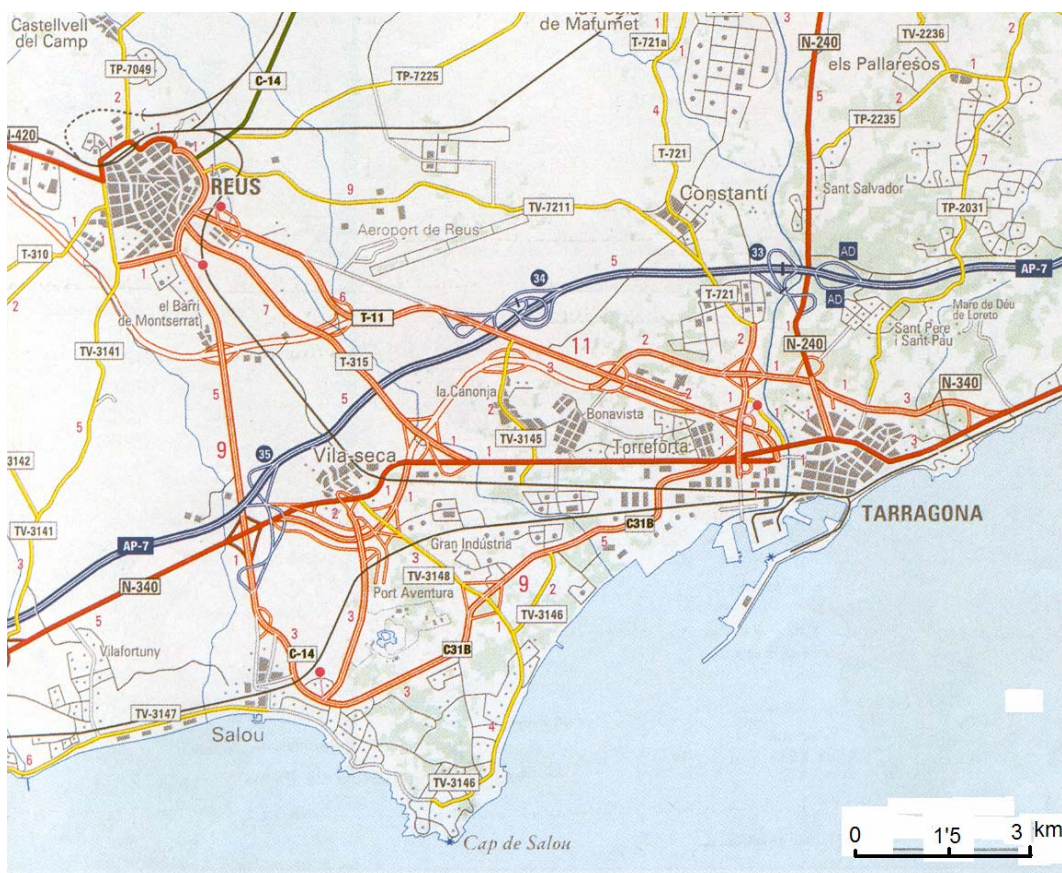
**Serà condició indispensable per aprovar l'assignatura, haver aprovat la primera avaluació del 2n curs d'ESO.**

**EL TREBALL:**

1.- Elabora un planisferi on quedin molt clars els cinc continents i els oceans.

2.- Les representacions de la terra que fem normalment són unes representacions planes, però la terra és esfèrica, com creus que és possible fer aquestes representacions. (consulteu la pàgina web del centre)

3.- Una de les diferències entre els mapes és la quantitat de territori representat. El que canvia entre uns i altres és l'ESCALA. Elabora una definició d'escala i després emprant l'escala del següent mapa, calcula la distància entre Tarragona i Reus. Explica tots els passos que segueixes



4.- Observa aquests dos mapes. Indica quin tipus d'escala tenen i després diguis quina és més gran.

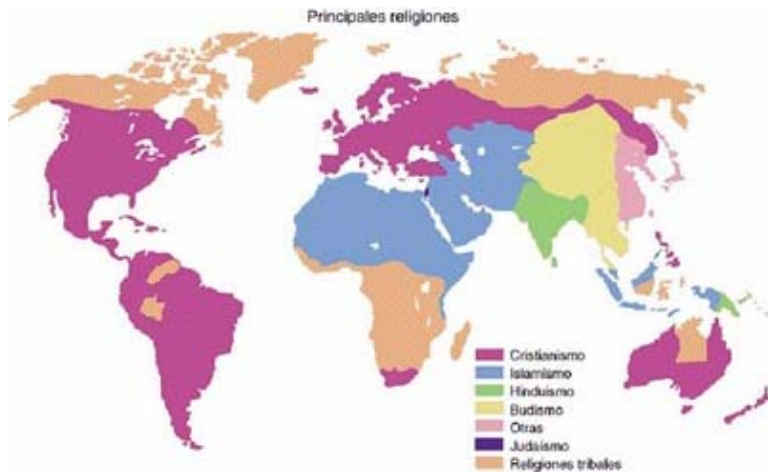


Escala 1:250.000



Escala 1:100.000

5.- Observeu els següents mapes i contesteu les qüestions següents:



- Marqueu els elements del mapa
- Quins són els elements que tenen en comú?
- Consideres que tots els mapes serveixen per al mateix? Per què?
- Indica en quina situació empraries cadascun dels mapes?

6 - La Orientació:

- Defineix el concepte ORIENTACIÓ
- Explica les diferents formes que hi ha per orientar-se
- Realitza la següent activitat:

Has quedat amb un company o una companya de classe a la biblioteca del teu poble, però no sap on és. El bus l'ha deixat, si vius a Maó a l'Esplanada, si vius a es Castell al pàrking de devora l'escola i si vius a Sant Lluís al Molí de l'entrada.


1. Per ajudar-lo fes-li un plano per guiar-lo. Dibuixa un plànol i marca l'itinerari que ha de seguir. Intenta que les distàncies siguin proporcionals.
2. Situa i marca amb signes en el plànol els edificis o llocs més importants i que sigui més fàcil reconèixer (ajuntament, benzina, fàbrica, centre comercial, església, centre de salut, estació, escola, semàfors, farmàcia, etc.)
3. Explica per escrit quin és el recorregut des del punt de partida al d'arribada. (d'on ha de sortir, cap a on ha de girar, que anirà trobant, etc).

7- Observa aquesta imatge d'un paisatge. (MENORCA)



- Enumereu tots els elements que són capaços d'identificar en l'escena.
- Ara, a partir dels elements anterior, fes-ne una descripció cada un del que heu vist. Intentarem diferenciar colors en el paisatge. A la vostra descripció, heu d'incloure tots els colors i tonalitats. Pots assignar-li el nom d'un element (blau-cel, vermell-teula, verd fosc- pinar, verd brillant-tanques...). Aquesta informació te servirà per definir les unitats paisagístiques.

8. Completa la següent imatge amb les formes de relleu i la seva definició



9.- Elabora un Mapa físic de cada continent amb les formes de relleu més importants. (Utilitza els mapes muts que hi ha a la pàgina web de l'institut o demana'ls al teu professor)

10.- Realitza un mapa físic de Menorca on apareguin, com a mínim, els següents llocs:

Illa d'en Colom	Cap de Cavalleria
Cala Mesquida	Cala Tirant
Port de Maó	Cap de Fornells
Illa de l'Aire	Port de Fornells
Punta Prima	Cap de Favàritx
Cala en Porter	El Toro
Platja de son Bou	Santa Àgueda
Cala Galdana	Binigaus (Sant Tomas, Atalis)
Cap d'Artrutx	Barranc d'Algendar
Cap Bajolí	Albufera des Grau
Illa des Porros	Punta Nati

11.- Explica la diferència entre Paisatge natural i Paisatge Humanitzat. Posa com a mínim 3 exemples de paisatge humanitzat i 3 de natura

12.- Realitza un eix cronològic de les etapes de la història.

13. Compara les següents etapes de la Prehistòria:

	PALEOLÍTIC	NEOLITIC
Vivien en ....		
Forma de vida .....		
Obtenien l'aliment de ...		
Fabricaven instruments		
Les formes artístiques són		